



CÂMARA MUNICIPAL DE CAPANEMA

CONCURSO PÚBLICO - PROVA OBJETIVA: 29 de outubro de 2017

NÍVEL FUNDAMENTAL COMPLETO

AUXILIAR DE SERVIÇOS GERAIS, VIGILANTE.

Nome do Candidato: _____

Nº de Inscrição: _____

Assinatura

INSTRUÇÕES AO CANDIDATO

1. Confira se a prova que você recebeu corresponde ao cargo/nível de escolaridade ao qual você está inscrito, conforme consta no seu cartão de inscrição e cartão resposta. Caso contrário comunique imediatamente ao fiscal de sala.
2. Confira se, além deste BOLETIM DE QUESTÕES, você recebeu o CARTÃO RESPOSTA, destinado à marcação das respostas das questões objetivas.
3. Este BOLETIM DE QUESTÕES contém a Prova Objetiva com 30 (trinta) questões, sendo 15 de Português e 15 de Matemática. Caso exista alguma falha de impressão, comunique imediatamente ao fiscal de sala. Na prova há espaço reservado para rascunho. **Esta prova terá duração de 04 (quatro) horas, tendo seu início às 08h e término às 12h (horário local).**
4. Cada questão objetiva apresenta 04 (quatro) opções de resposta, identificadas com as letras (A), (B), (C) e (D). Apenas uma responde adequadamente à questão, considerando a numeração de 01 a 30.
5. Confira se seu nome, número de inscrição, cargo de opção e data de nascimento, consta na parte superior do CARTÃO RESPOSTA que você recebeu. Caso exista algum erro de impressão, comunique imediatamente ao fiscal de sala, a fim de que o fiscal registre no formulário de Correção de Dados a devida correção.
6. O candidato deverá permanecer, obrigatoriamente, no local de realização da prova por, no mínimo, uma hora após o início da prova. A inobservância acarretará a eliminação do concurso.
7. É obrigatório que você assine a LISTA DE PRESENÇA e o CARTÃO RESPOSTA do mesmo modo como está assinado no seu documento de identificação.
8. A marcação do CARTÃO RESPOSTA deve ser feita somente com caneta esferográfica de tinta preta ou azul, pois lápis não será considerado.
9. A maneira correta de marcar as respostas no CARTÃO RESPOSTA é cobrir totalmente o espaço correspondente à letra a ser assinalada, conforme o exemplo constante no CARTÃO RESPOSTA.
10. Em hipótese alguma haverá substituição do CARTÃO RESPOSTA por erro do candidato. A substituição só será autorizada se for constatada falha de impressão.
11. O BOLETIM DE QUESTÕES deverá ser devolvido ao final da sua prova, juntamente com seu CARTÃO RESPOSTA, pois é o único documento válido para o processamento de suas respostas.
12. Será automaticamente eliminado do Concurso Público da Câmara Municipal de CAPANEMA o candidato que durante a realização da prova descumprir os procedimentos definidos no Edital nº 001/2017 do referido concurso.

Boa Prova.

FADESP

PORTUGUÊS

LEIA OS TEXTOS A SEGUIR PARA RESPONDER ÀS QUESTÕES DE 1 A 15.

Texto 1 – questões 1 a 11.

Um pouco de gentileza

Ivan Ângelo

1 Pessoas bem educadas pedem “por favor”. Assim aprendemos, assim
2 muitos pais continuam a ensinar. A ideia prática por trás da polidez sempre foi
3 esta: se você pede com bons modos, tem mais chance de conseguir o que quer.
4 Funcionava.

5 Em algum momento, que não consigo localizar no tempo exato da minha
6 vivência, mas calculo que tenha sido pela metade dos anos 1960, o desrespeito,
7 e logo a grosseria, e daí a pouco a arrogância, e já, já a truculência,
8 contrabandeados da caserna para a vida civil e aprendidos em culturas de fora,
9 instalaram-se nos modos do morador civilizado das nossas cidades, aquele que
10 dava lugar no bonde às senhoras e aos mais velhos, dizia bom dia aos que
11 passavam, pedia licença, não economizava o “por favor”, deixava entrar primeiro
12 as damas, abria a porta do carro para a namorada, e tantas gentilezas extintas
13 ou em extinção.

14 Noto, circulando pela cidade, que há sinais de amabilidade por aí, uma
15 cordialidade escrita. Pedidos e avisos delicados, dirigidos aos cidadãos
16 passantes. Pode ser uma retomada, por que não? [...]

17 Uma placa bem no centro do muro do estacionamento de uma farmácia
18 na Pompeia: “Este estabelecimento cuida da sua saúde, portanto o aspecto de
19 limpeza é muito importante. Por favor, não piche. Contamos com a sua
20 colaboração”. O muro tem estado limpo de rabiscos nestes dois anos em que
21 venho andando por lá a caminho da hidroginástica.

22 Há quem junte humor e ironia ao pedido, sem perder a delicadeza. Em
23 uma aréola na Pompeia (sabem o que é uma aréola? Eu também não sabia,
24 excetuando o círculo destacado que enfeita os seios humanos. Pois aprendi que
25 o pequeno ajardinado que circula o pé das árvores nas calçadas também se
26 chama aréola. Quem terá posto nome tão delicado quanto apropriado ao
27 jardimzinho?), então, eu dizia, em uma aréola na Pompeia, encontro fincada uma
28 plaquinha com os dizeres: “Sr. Cão, favor não fazer suas necessidades neste
29 local”.

30 Bem perto dali, em um ajardinado que contorna um poste, fincaram um
31 repique com nova dose de humor: “Sr. Cão, favor não deixar seu dono fazer xixi
32 aqui”. No jardim em frente a um prédio nas Perdizes, mais um recado para os
33 cães alfabetizados: “Senhor cão, cuidado, veneno para ratos”. [...]

34 Em um posto de gasolina no Pari: “Senhor ladrão, favor passar outra
35 hora. Seu colega já levou tudo”. Será que adianta?

36 Até quem tem mais de 100 anos e boa memória se lembra do aviso nas
37 casas do pequeno comércio de bairro: “Fiado, só amanhã”. Achávamos graça
38 nessa habilidade com as palavras. Surgem novos arranjos hábeis sem perda de
39 lhanza: “Vendemos fiado pelo dobro do preço”; “Não vendo fiado nas
40 segundas-feiras; nos outros dias, só a dinheiro”. [...]

Disponível em: <<http://vejasp.abril.com.br/materia/ivan-angelo-um-pouco-de-gentileza-cronica>>.

Acesso em: 19 ago. 2017.

1 Em seu texto, Ivan Ângelo focaliza

- (A) os males causados pela falta de polidez.
- (B) a falta de bons modos nas relações comerciais.
- (C) a destruição das relações familiares nos anos 60.
- (D) sinais escritos do retorno da cordialidade ao convívio urbano.

2 Segundo Ivan Ângelo,

- (A) o morador civilizado das cidades foi extinto.
- (B) a boa educação era aprendida no convívio familiar.
- (C) cortesia e bons modos eram importados de culturas estrangeiras.
- (D) placas e cartazes truculentos substituíram os gestos de amabilidade.

3 Entre os hábitos que o autor considera quase extintos **não** está o de

- (A) dar bom dia aos passantes.
- (B) ceder o lugar aos mais velhos.
- (C) abrir a porta do carro para as namoradas.
- (D) pichar os muros com rabiscos e mensagens.

4 **Não** há ironia ou humor no aviso:

- (A) “Sr. Cão, favor não fazer suas necessidades neste local” (l. 28 e 29).
- (B) “Senhor ladrão, favor passar outra hora. Seu colega já levou tudo” (l. 34 e 35).
- (C) “Não vendo fiado nas segundas-feiras; nos outros dias, só a dinheiro” (l. 39 e 40).
- (D) “Este estabelecimento cuida da sua saúde, portanto o aspecto de limpeza é muito importante. Por favor, não piche [...]” (l. 18 e 19).

5 O vocábulo que **não** tem o mesmo sentido que os demais é

- (A) “lhaneza”.
- (B) “gentileza”.
- (C) “arrogância”.
- (D) “amabilidade”.

6 Na passagem “mas calculo que tenha sido pela metade dos anos 1960, o desrespeito, e logo a grosseria, e daí a pouco a arrogância, e já, já a truculência” (l. 6 e 7), os termos destacados dão a ideia de

- (A) futuro próximo.
- (B) retorno no tempo.
- (C) movimento lento, mas gradual.
- (D) mudança rápida e progressiva.

7 Em “o pequeno ajardinado que circula o pé das árvores nas calçadas” (l. 25), o trecho sublinhado contém um(a)

- (A) hipérbole.
- (B) catacrese.
- (C) eufemismo.
- (D) pleonasma.

8 Há sujeito indeterminado no trecho

- (A) “há sinais de amabilidade por aí” (l. 14).
- (B) “fincaram um repique com nova dose de humor” (l. 30 e 31).
- (C) “Achávamos graça nessa habilidade com as palavras” (l. 37 e 38).
- (D) “Surgem novos arranjos hábeis sem perda de lhaneza” (l. 38 e 39).

9 Na passagem “(...Quem terá posto nome tão delicado quanto apropriado ao jardimzinho?) (l. 26 e 27), o adjetivo “delicado” foi flexionado no grau

- (A) comparativo de igualdade.
- (B) superlativo absoluto analítico.
- (C) comparativo de superioridade.
- (D) superlativo relativo de superioridade.

10 O termo em destaque foi analisado sintaticamente de forma **incorreta** no enunciado

- (A) “Por favor, não piche” (l. 19) = vocativo.
- (B) “Contamos com a sua colaboração” (l. 19 e 20) = objeto indireto.
- (C) “Pessoas bem educadas pedem “por favor” (l. 1) = adjunto adnominal.
- (D) “aquele que dava lugar no bonde às senhoras” (l. 9 e 10) = complemento nominal.

- 11 Em “Este estabelecimento cuida da sua saúde, portanto o aspecto de limpeza é muito importante.” (l. 18 e 19), o conectivo “portanto” poderia, respeitando o sentido original, ser substituído por
- (A) porque.
 - (B) por isso.
 - (C) contudo.
 - (D) no entanto.

Texto 2 – questões 12 a 15.

Negros com escolaridade igual a de brancos recebem 30% menos

No Dia Nacional da Consciência Negra, o retrato de um país onde ainda predominam fortes diferenças no acesso à educação e renda.

Disponível em: <<http://oglobo.globo.com/>>.
Acesso em: 19 ago. 2017.

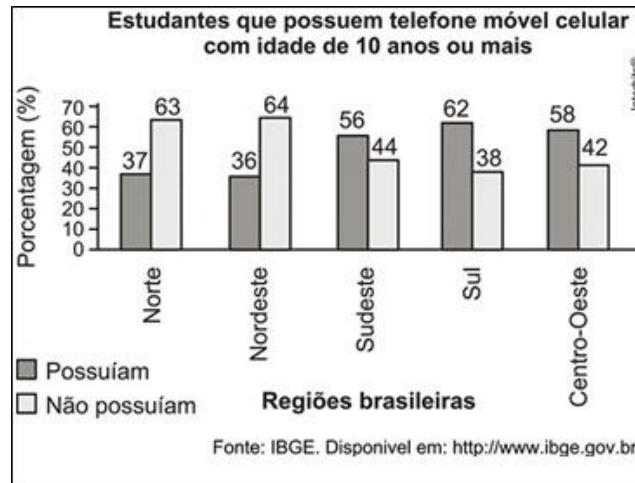
- 12 A manchete e o lide anunciam um texto de caráter
- (A) narrativo.
 - (B) biográfico.
 - (C) prescritivo.
 - (D) informativo.
- 13 Na manchete “Negros com escolaridade igual a de brancos recebem 30% menos” há um desvio relativo à (ao)
- (A) ortografia.
 - (B) acentuação.
 - (C) uso da crase.
 - (D) concordância nominal.
- 14 O verbo “aceder” deu origem ao substantivo “acesso”. A relação entre verbo e substantivo foi **incorretamente** grafada em
- (A) ceder < cessão.
 - (B) suceder < sucessão.
 - (C) estender < extenssão.
 - (D) conceder < concessão.
- 15 No enunciado “No Dia Nacional da Consciência Negra, o retrato de um país onde ainda predominam fortes diferenças”, a vírgula
- (A) indica uma citação.
 - (B) isola o adjunto adverbial.
 - (C) assinala uma enumeração.
 - (D) destaca uma expressão explicativa.

MATEMÁTICA

- 16 Com velocidade média constante, um automóvel fez uma viagem de 162 km, entre Capanema e Belém, em 3 horas. Para percorrer os 108 km iniciais dessa viagem, o automóvel deve ter demorado, em torno de,
- (A) uma hora e meia.
 - (B) uma hora e quarenta e cinco minutos.
 - (C) duas horas.
 - (D) duas horas e quinze minutos.
- 17 O automóvel da questão anterior, em média, por hora percorreu
- (A) 54 km.
 - (B) 56 km.
 - (C) 58 km.
 - (D) 60 km.

- 18** No primeiro terço de uma viagem de 720 km, um carro percorreu 60 km em cada hora, no segundo terço, 80 km e 40 km no último terço. Essa viagem demorou
- (A) 10 horas.
 - (B) 13 horas.
 - (C) 15 horas.
 - (D) 20 horas.

CONSIDERE O GRÁFICO ABAIXO PARA RESOLVER ÀS QUESTÕES 19, 20 e 21.



- 19** É correto afirmar que na região
- (A) Sudeste a maioria dos pesquisados não possuía celular.
 - (B) Norte a maioria dos pesquisados possuía celular.
 - (C) Sul a maioria dos pesquisados não possuía celular.
 - (D) Centro-Oeste a maioria dos pesquisados possuía celular.
- 20** Se na região Norte foram pesquisados 800 estudantes, então, desses
- (A) 296 possuíam celular.
 - (B) 504 possuíam celular.
 - (C) 396 não possuíam celular.
 - (D) 404 não possuíam celular.
- 21** O percentual médio dos estudantes que na ocasião não possuíam celular (soma desses percentuais dividida por cinco) é aproximadamente igual a
- (A) 54%.
 - (B) 52%.
 - (C) 50%.
 - (D) 47%.
- 22** Em uma prova objetiva, um candidato acertou 24 questões e errou 16, obtendo 40 pontos. Outro candidato acertou 20 e errou 20, obtendo 20 pontos. Nesse caso, pode-se afirmar que cada questão certa soma
- (A) 2 pontos e cada questão errada desconta 3 pontos.
 - (B) 3 pontos e cada questão errada desconta 2 pontos.
 - (C) 2 pontos e cada questão errada desconta 1 ponto.
 - (D) 3 pontos e cada questão errada desconta 1 ponto.
- 23** Em uma festa havia 3 mulheres para cada 2 homens. Se 130 mulheres saíssem e todos os homens permanecessem, a razão se inverteria, passando a ter 2 mulheres para cada 3 homens. Nessa festa havia
- (A) 141 homens.
 - (B) 144 homens.
 - (C) 153 homens.
 - (D) 156 homens.

CONSIDERE AS INFORMAÇÕES ABAIXO PARA RESOLVER ÀS QUESTÕES 24, 25 e 26.

No cartão do Bolsa Família há o NIS (Número de Identificação Social), que serve para o seu pagamento. Certo ano foi digitado o quadro abaixo para o pagamento desse benefício.

Número Final do NIS	DIA E MÊS DO PAGAMENTO											
	18/jan	16/fev	17/mar	15/abr	17/mai	17/jun	18/jul	18/ago	19/set	18/out	17/nov	12/dez
1	18/jan	16/fev	17/mar	15/abr	17/mai	17/jun	18/jul	18/ago	19/set	18/out	17/nov	12/dez
2	19/jan	17/fev	18/mar	18/abr	18/mai	20/jun	19/jul	19/ago	20/set	19/out	18/nov	13/dez
3	20/jan	18/fev	21/mar	19/abr	19/mai	21/jun	20/jul	22/ago	21/set	20/out	21/nov	14/dez
4	21/jan	18/fev	22/mar	20/abr	20/mai	22/jun	21/jul	23/ago	22/set	21/out	22/nov	15/dez
5	22/jan	22/fev	23/mar	22/abr	23/mai	23/jun	22/jul	24/ago	23/set	24/out	23/nov	16/dez
6	25/jan	23/fev	24/mar	25/abr	24/mai	24/jun	25/jul	25/ago	26/set	25/out	24/nov	19/dez
7	26/jan	24/fev	28/mar	26/abr	25/mai	27/jun	26/jul	26/ago	27/set	26/out	25/nov	20/dez
8	27/jan	25/fev	29/mar	27/abr	27/mai	28/jun	27/jul	29/ago	28/set	27/out	28/nov	21/dez
9	28/jan	26/fev	30/mar	28/abr	30/mai	29/jun	28/jul	20/ago	29/set	28/out	29/nov	22/dez
0	29/jan	29/fev	31/mar	29/abr	32/mai	30/jun	29/jul	21/ago	30/set	31/out	30/nov	23/dez

24 Segundo esse quadro, uma pessoa cujo NIS é 12345678905, no mês de janeiro desse ano, deveria receber o Bolsa Família no dia

- (A) 22.
- (B) 21.
- (C) 20.
- (D) 18.

25 Considerando-se esse quadro e os números de NIS abaixo, o único deles que seria pago no dia 22 de agosto seria

- (A) 32134556701.
- (B) 42235476102.
- (C) 52734965603.
- (D) 62164756504.

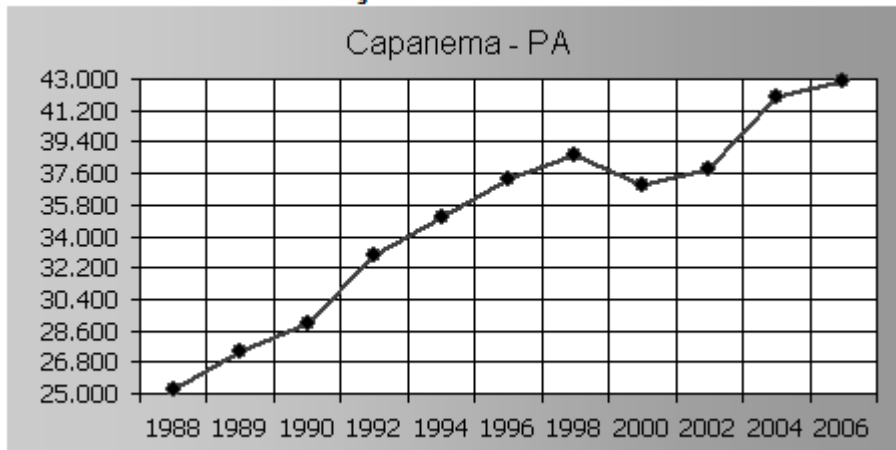
26 Na elaboração do quadro houve um visível erro de digitação, no mês de

- (A) fevereiro, relativo aos NIS de final 2.
- (B) maio, relativo aos NIS de final 0.
- (C) março, relativo aos NIS de final 3.
- (D) abril, relativo aos NIS de final 4.

RASCUNHO

27 Com base na evolução do número de eleitores de Capanema-PA, exposta no quadro abaixo, é correto afirmar que em

GRÁFICO DA EVOLUÇÃO DO NÚMERO DE ELEITORES



Fonte: <http://www.guiadoeleitor.com.br/cidades/4430.htm>

- (A) 2002 havia mais eleitores do que em 1998.
- (B) 2010 houve diminuição no número de eleitores.
- (C) 1980 havia menos de 15.000 eleitores.
- (D) 2000 houve diminuição em relação a 1998.


CONSIDERE A FOTOGRAFIA DO PRÉDIO ABAIXO, PARA RESOLVER ÀS QUESTÕES 28 E 29.



28 Se cada uma das quatro janelas frontais medir 1,10m de largura por 2m de altura, a área delas totalizará

- (A) 7,80m².
- (B) 8,80m².
- (C) 9,80m².
- (D) 10,80m².

29 Caixilho é nome que se dá à parte lateral e superior que serve para fixar portas em paredes, como o da foto abaixo. Se a porta central desse prédio medir 1,50m de largura por 2,50m de altura, o comprimento total do seu caixilho medirá



- (A) 6,20m.
- (B) 6,30m.
- (C) 6,50m.
- (D) 7,00m.

30 Em um gaveteiro com 6 gavetas, como o da figura abaixo, cada gaveta, a partir da segunda, tem uma pasta a mais do que a que fica imediatamente embaixo.



Se na última gaveta, que fica acima das demais, houver 9 pastas, no total esse gaveteiro possuirá

- (A) 39 pastas.
- (B) 38 pastas.
- (C) 37 pastas.
- (D) 36 pastas.

RASCUNHO